

مملكة البحرين

وزارة التربية والتعليم

مدرسة الرازي الابتدائية للبنين

اسم الطالب : \_\_\_\_\_

الصف : ٤ / الرقم :

التاريخ : / / ٢٠٠٦ م

## اختبار نهاية الوحدة الأولى للصف الرابع الابتدائي

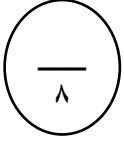
للعام الدراسي ٢٠٠٦ / ٢٠٠٧ م

زمن الاختبار : حصة كاملة

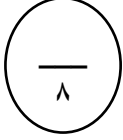
رقم السؤال	درجة السؤال	درجة الطالب
السؤال الأول	٨	
السؤال الثاني	٨	
السؤال الثالث	٨	
السؤال الرابع	٨	
السؤال الخامس	٤	
السؤال السادس	٢	
السؤال السابع	١٠	
السؤال الثامن	٢	
المجموع	٥٠	

مدرس المادة : الأستاذ / علي احمد عيسى

يتمنى لجميع الطلبة كل النجاح والتوفيق

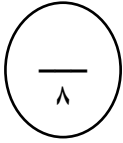


السؤال الأول : اكتب ما يملئ عليك :



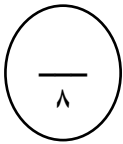
السؤال الثاني : أكمل الجدول التالي :

العدد بالأرقام	العدد بالحروف
	خمسة ملايين وأربعة آلاف وثلاثة وثلاثون
٥٦٣٤٧٨	
٤٤٤٠٠٠٦	
	ثلاثمائة وخمس وستون الفا وثلاثمائة وتسعون



السؤال الثالث : اكتب القيمة المكانية للأرقام التي تحتها خط فيما يلي :

العدد	٢٦٥٣٨٩٤	٥٢٨٩٤٣	٣٢٤٥٦١٠	٩٥١٣٥٧٢
القيمة المكانية				



السؤال الرابع :

( أ ) رتب الأعداد التالية ترتيباً تنازلياً :

٦٢٠٩٩٩ ، ٦٢٧٤٥٣ ، ٦٢١٨٧٥ ، ٦٢٥٨٩٤

\_\_\_\_\_ ، \_\_\_\_\_ ، \_\_\_\_\_ ، \_\_\_\_\_

( ب ) رتب الأعداد التالية ترتيباً تصاعدياً :

٩٠٠٠٠٠١ ، ٩٠٠٠١٠ ، ٩٠٠١٠٠ ، ٩٩٩٩٩

\_\_\_\_\_ ، \_\_\_\_\_ ، \_\_\_\_\_ ، \_\_\_\_\_

٤

السؤال الخامس : ضع الرمز المناسب < أو > أو = داخل المربع لتحصل على عبارة صحيحة فيما يلي :

٦٠٠	<input type="text"/>	٧ مئات	١٠٠٠٧	<input type="text"/>	٧٠٠٠١
١٧٤٦٥٣	<input type="text"/>	١٧٤٥٦٣	٥٦٢٢٧٨٩	<input type="text"/>	٥٦٢٣٤٨١
٦٩٩٩	<input type="text"/>	٧٠٠٠	٣٠٠٠٠	<input type="text"/>	٣٠ الف
١٧٤١٢	<input type="text"/>	١٧١٤١	١٠٠٠١٠	<input type="text"/>	١٠٠٠٠١

٢

السؤال السادس : اكتب أكبر عدد وأصغر عدد كل منهما مكون من الأرقام التالية :

١ ، ٤ ، ٨ ، ٩ ، ٦ ، ٧

أكبر عدد هو :

أصغر عدد هو :

١٠

السؤال السابع : أكمل :

$$\begin{aligned} & \boxed{\phantom{00}} + \boxed{\phantom{00}} + ٣٠٠٠ + \boxed{\phantom{00}} + \boxed{\phantom{00}} + ٥ = ٧٥٣٦٢٥ \\ ٦٠٠٠٠٠٠ + \boxed{\phantom{00}} + \boxed{\phantom{00}} + \boxed{\phantom{00}} + \boxed{\phantom{00}} + \boxed{\phantom{00}} + \boxed{\phantom{00}} = ٦٥٤٤٢٦٧ \end{aligned}$$

السؤال الثامن : ضع الرقم ٢ بين رقمين من أرقام العدد ٣٦١٣٥ لتحصل على أكبر عدد

ممکن :

٢

أكبر عدد هو :

انتهت الأسئلة مع تمنياتنا للجميع بدوام التوفيق والنجاح  
مدرس المادة : علي أحمد عيسى

ملاحظات ولي الأمر :

التوقيع :