

مملكة البحرين  
وزارة التربية والتعليم  
مدرسة الرازي الابتدائية للبنين

اسم الطالب : \_\_\_\_\_  
الصف : ٤ / الرقم : \_\_\_\_\_  
التاريخ : \_\_\_\_\_ / \_\_\_\_\_ / ٢٠٠٦ م

## اختبار نهاية وحدة الضرب للصف الرابع الابتدائي

### الفصل الأول من العام الدراسي ٢٠٠٦ / ٢٠٠٧ م

إعداد : الأستاذ / علي أحمد عيسى

رقم السؤال	الدرجة الكلية للسؤال	الدرجة التي حصل عليها الطالب
السؤال الأول	١٠	
السؤال الثاني	٦	
السؤال الثالث	٧	
السؤال الرابع	٦	
السؤال الخامس	٥	
السؤال السادس	٦	
المجموع	٤٠	

#### تعليمات هامة :

- ١ - احرص على قراءة الأسئلة جيداً قبل الإجابة.
- ٢ - الامتحان مكون من ٣ صفحات مختلفة.
- ٣ - احرص على الإجابة على جميع الأسئلة.
- ٤ - زمن الامتحان : حصة كاملة ( ٤٠ دقيقة ).
- ٥ - احرص على أن تكون الإجابة نظيفة ومرتبطة.

\*\*\* مع تمنياتي للجميع بالنجاح والتوفيق \*\*\*

١٠

السؤال الأول : في الجدول التالي أحرف عبرنا عن كل منها بعدد يدل عليه :

س	د	ع	ي
٥٦	٣٦	٢٤	١٨

ضع الحرف الدال على ناتج كل عملية في المربع المناسب :

$٩ \times ٤$	$٦ \times ٣$	$٨ \times ٣$	$٨ \times ٧$	$٦ \times ٦$	$٩ \times ٢$	$٦ \times ٤$

اكتب الجملة التي حصلت عليها : \_\_\_\_\_ .

٦

السؤال الثاني : أكمل :

$$٢٧٠٠ = ٣٠٠ \times \square$$

$$\square = ١٠٠ \times ٢٥$$

$$\square = ١٠ \times ٣٣$$

$$٣٥٠٠٠ = ٧٠٠٠ \times \square$$

$$٢٧٠٠٠ = \square \times ٢٧$$

$$\square = \cdot \times ٩٠$$

السؤال الثالث :

٧

( أ ) أوجد عوامل العدد ١٥ .

عوامل العدد ١٥ هي :  $\square$  ،  $\square$  ،  $\square$  ،  $\square$  :

( ب ) أوجد ثلاثة من مضاعفات العدد ٣ .

مضاعفات العدد ٣ هي :  $\square$  ،  $\square$  ،  $\square$  :

٦

السؤال الرابع : أوجد ناتج ما يأتي :

$$\begin{array}{r} ٨ \ ٦ \ ٩ \\ \times ٢ \\ \hline \end{array}$$

$$\begin{array}{r} ٣ \ ٢ \ ١ \\ \times ٧ \\ \hline \end{array}$$

$$\begin{array}{r} ٣ \ ٤ \\ \times ٥ \\ \hline \end{array}$$

٥


السؤال الخامس : استخدم الأرقام ٤ ، ٨ ، ٢ في تكوين عددين يكون حاصل ضربهما أكبر ما يمكن ، ثم أوجد الناتج :














<input type="text"/>	<input type="text"/>
<input type="text"/>	×
<hr/>	

٦

السؤال السادس : حل المسائل التالية :

( ١ ) إذا كان ثمن قلم الحبر ١٥٠ فلساً ، فما ثمن ٩ أقلام من النوع نفسه ؟  
الحل :

( ٢ ) الجدول التالي يبين عدد ساعات الحائط الذي بيعت في أحد المحلات التجارية في الأيام : السبت ، الأحد ، الاثنين (  = ٢٠ ساعة ) .

  	السبت
   	الأحد
     	الاثنين

كم ساعة بيعت في كل من يوم :

( أ ) السبت ؟ \_\_\_\_\_ .

( ب ) الأحد ؟ \_\_\_\_\_ .

( ج ) الاثنين ؟ \_\_\_\_\_ .

\*\*\*\* مع تمنياتي للجميع بالنجاح والتوفيق \*\*\*\*