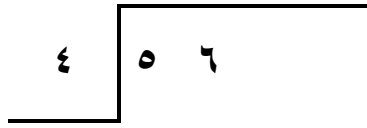


### نشاط على وحدة القسمة

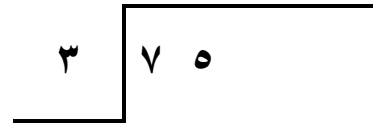
الاسم: / الصف: ٤ / الرقم: التاريخ: / ٣ / ٢٠٠٦ م

السؤال الاول: اوجد الناتج ثم تحقق من صحة الحل في كل ممايلي:-

التحقق:




التحقق:



التحقق:



التحقق:



السؤال الثاني:

أكمل الفراغ لتحصل على عبارة صحيحة :

$$5 \quad 3 = 4 \div \boxed{\phantom{000}}$$

$$1 \quad 3 \quad 4 = \boxed{\phantom{00}} \div \boxed{\phantom{00}} \quad 8$$

$$2 \quad 6 \quad \boxed{\phantom{00}} = 3 \div \boxed{\phantom{00}} \quad 6$$

السؤال الثالث:

أشترى أحمد دفتر واحد و ٥ أقلام بمبلغ دينار واحد اذا كان ثمن الدفتر ٢٠٠ فلس فما ثمن القلم الواحد ؟